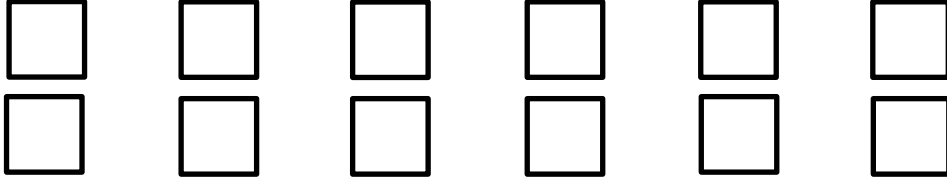


الاسم : _____ الصف : _____

الكسور في مجموعات


لوّن في كل مجموعة بحسب الكسر المُسجّل واكمل :

(1) لوّن $\frac{1}{2}$ المُرَبَّعات :



$\frac{1}{2}$ الـ 12 يساوي _____

(2) لوّن $\frac{1}{5}$ الدوائر :




$\frac{1}{5}$ الـ 15 يساوي _____

(3) لوّن $\frac{1}{4}$ المثلثات :



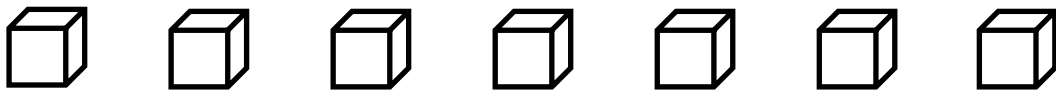
$\frac{1}{4}$ الـ 8 يساوي _____

(4) لَوْن $\frac{2}{3}$ النجوم :



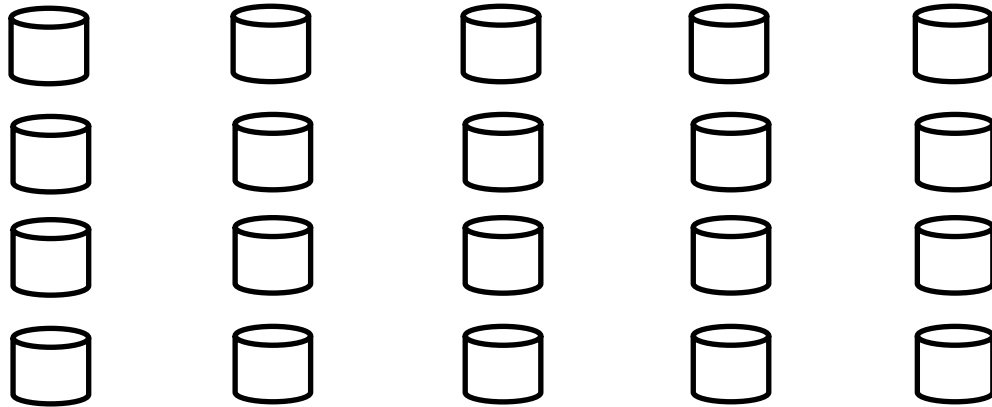
$\frac{2}{3}$ الـ 18 يساوي _____

(5) لَوْن $\frac{5}{7}$ المكعبات :



$\frac{5}{7}$ الـ 7 يساوي _____

(6) لَوْن $\frac{9}{10}$ الاسطوانات



$\frac{9}{10}$ الـ 20 يساوي _____