


الكسر كجزء من كمية

الاسم : _____ الصف : _____

1. لون $\frac{1}{2}$ التفاحات.



كم تفاحة لونت ؟

الجواب : _____


2. لون $\frac{1}{5}$ السيارات.



كم سيارة لونت ؟

الجواب : _____

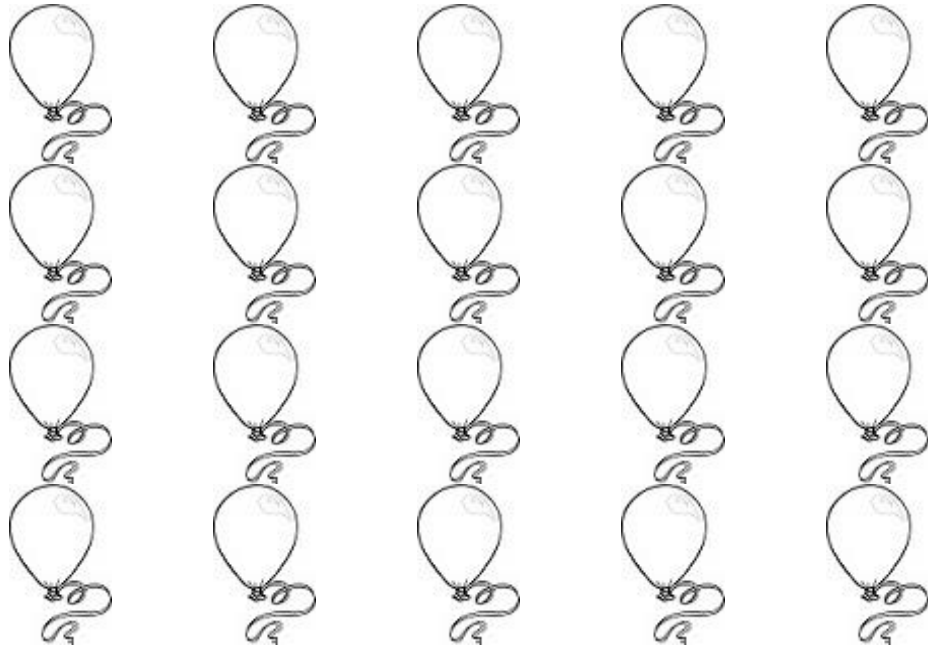
3. لَوْن $\frac{1}{3}$ الوردات.



كم وردة لَوْنت ؟

الجواب :


4. لَوْن $\frac{3}{4}$ البالونات



كم بالون لَوْنت ؟

الجواب :


5. لَوْن $\frac{5}{7}$ العصافير.



كم عصفور لَوْنت ؟

الجواب : _____

6. لَوْن $\frac{7}{10}$ حبات التوت.



كم حبة توت لَوْنت ؟

الجواب : _____