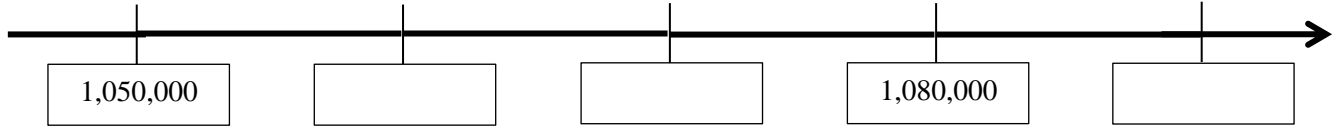


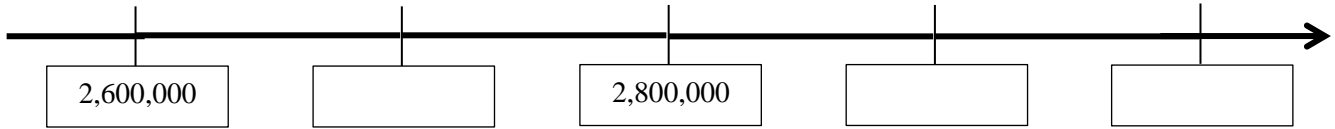
الاعداد الطبيعية – مستقيم الأعداد

الاسم : _____ الصف : _____

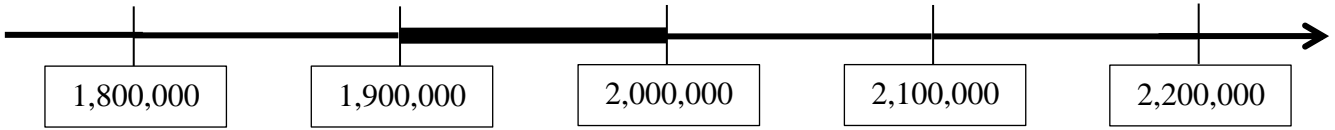
1. اكتبوا اعدادًا مناسبة في الخانات الخالية:



2. اكتبوا اعدادًا مناسبة في الخانات الخالية:



3. اي عدد يقع على القطعة المُشددة على مُستقيم الأعداد ؟



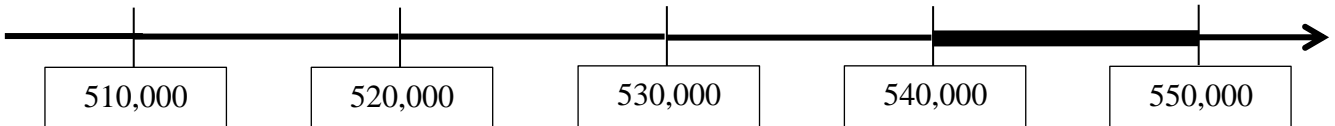
ب. 1,900,005

أ. 2,010,000

د. 1,899,000

ج. 191,000

4. اي عدد يقع على القطعة المُشددة على مُستقيم الأعداد ؟



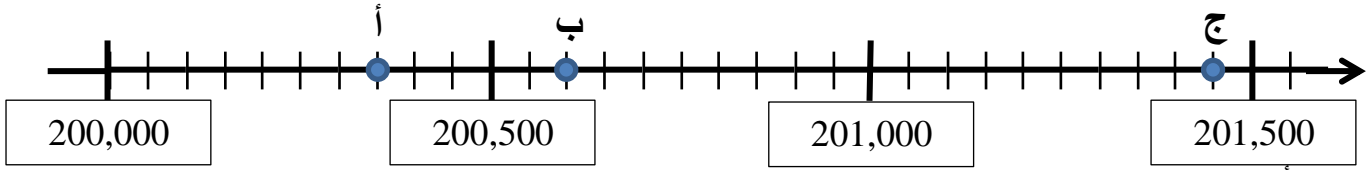
ب. 539,500

أ. 560,000

د. 504,800

ج. 548,900

5. اكتبوا اعدادًا مُلائمة للنقاط المُعلَّمة على مُستقيم الأعداد :

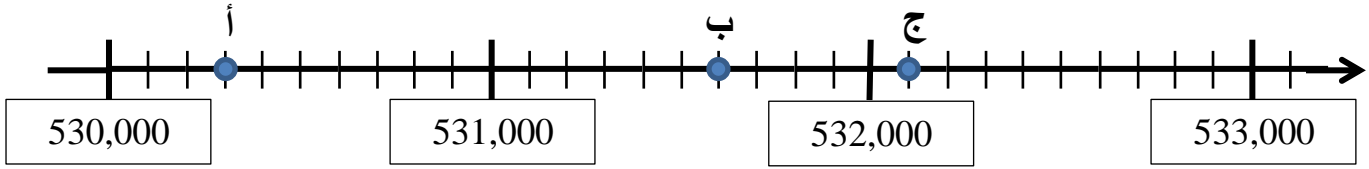


أ. _____

ب. _____

ج. _____

6. اكتبوا اعدادًا مُلائمة للنقاط المُعلَّمة على مُستقيم الأعداد :

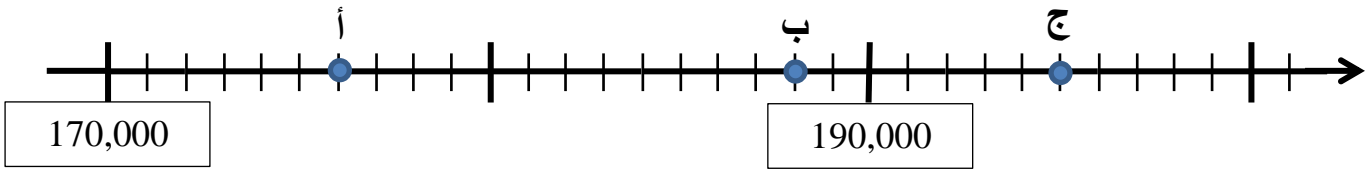


أ. _____

ب. _____

ج. _____

7. اكتبوا اعدادًا مُلائمة للنقاط المُعلَّمة على مُستقيم الأعداد :



أ. _____

ب. _____

ج. _____

عمالاً مُمتعاً